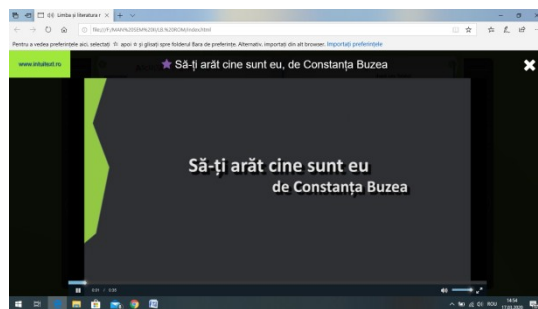


## ASCULTĂM ȘI COMUNICĂM!

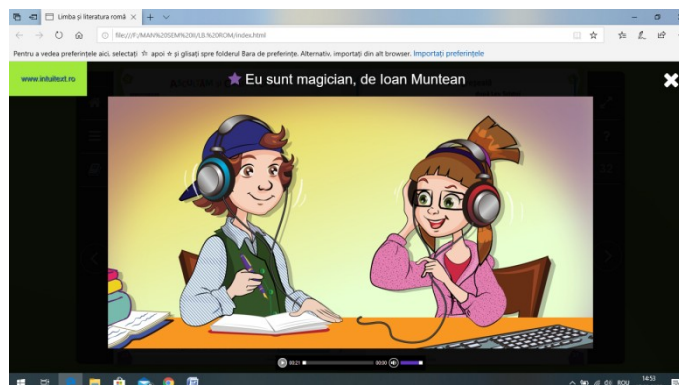
1. Ascultați poezia „Să-ți arăt cine sunt eu” de Constanța Buzea.  
Poezia o puteți audia pe grupul clasei, apoi rezolvați punctul **b** de la exercițiul 1, pag. 32, din manualul de **Limba și literatura română**.



2. Ascultați versurile din poezia „Eu sunt magician” de Ioan Muntean.  
Poezia o puteți audia pe grupul clasei.

Scrieți întrebările din poezie și dați răspunsuri surprinzătoare, apoi rezolvați punctul **b** de la exercițiul 2, pag. 32, din manualul de **Limba și literatura română**.

Analizați părțile de vorbire învățate din titlul acestei poezii.



Școala Gimnazială „Gh. Banea” Măcin

Clasa a III-a A

Disciplina: Matematică

P.I.P. BĂDESCU JANINA

Perioada: 19,20-03-2020 (2h)

## ELEMENTE DE GEOMETRIE-POLIGOANE

Pătrat, dreptunghi, triunghi

*CONSOLIDARE*

- Pentru a vă reaminti cunoștințele legate de poligon, vă rog să accesați următorul link:

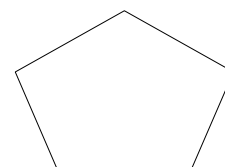
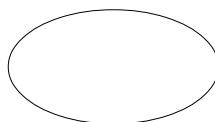
[https://www.youtube.com/watch?v=EnRIV\\_LownA&fbclid=IwAR3cUr0ITDFbVqvKvEYKr-QmPbHAAisJgWfs3A9enru86DULygrSZvd19vE](https://www.youtube.com/watch?v=EnRIV_LownA&fbclid=IwAR3cUr0ITDFbVqvKvEYKr-QmPbHAAisJgWfs3A9enru86DULygrSZvd19vE)

### Ne reamintim!

- Poligonul este linia frântă închisă.  
➤ Segmentele de dreaptă care formează poligonul sunt laturile acestuia.

### TEMĂ DE LUCRU

- ✚ Colorează figurile geometrice care sunt poligoane.



- ✚ Folosind linia și creionul, realizați poligoane cu: trei laturi, cinci laturi, patru laturi.

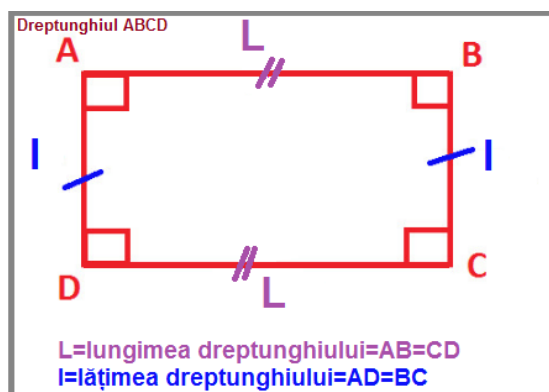
### Pătratul

- 1) Pentru a vă reactualiza cunoștințele legate de pătrat, vă rog să consultați caietele de clasă!
- 2) Realizați, pe caiete, un pătrat cu latura de 3 cm, apoi notați-l cu MNOP. Scrieți tot ce știți despre el (laturi, unghiuri, vârfuri).

### Dreptunghiul

#### REȚINE!

Dreptunghiul este poligonul cu 4 laturi. Laturile opuse sunt egale ca lungime. Acesta are 4 vârfuri și 4 unghiuri.

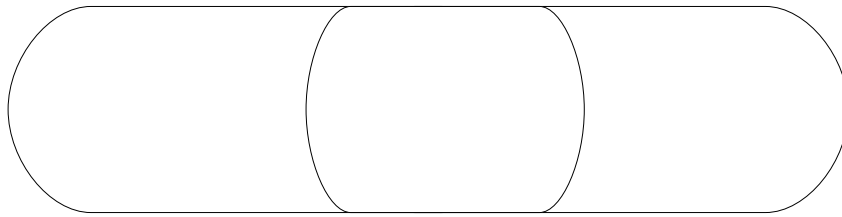


www.profesorjitaruionel.com

Așadar:  $AB=CD$  și  $BC=AD$

- 1) Realizați, pe caiete, un dreptunghi cu lungimea (L) de 5 cm și lățimea (l) de 2 cm. Notați-l, apoi scrieți vârfurile și unghiurile acestuia.
- 2) Găsiți asemănări și deosebiri între pătrat și dreptunghi:

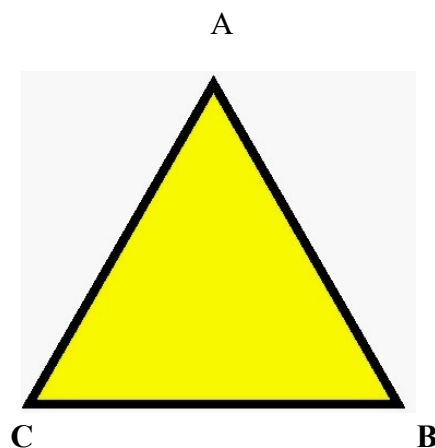
**PĂTRAT      ASEMĂNĂRI      DREPTUNGHI**



## Triunghiul

### **REȚINE!**

Triunghiul este poligonul cu 3 laturi, 3 vârfuri și 3 unghiuri.



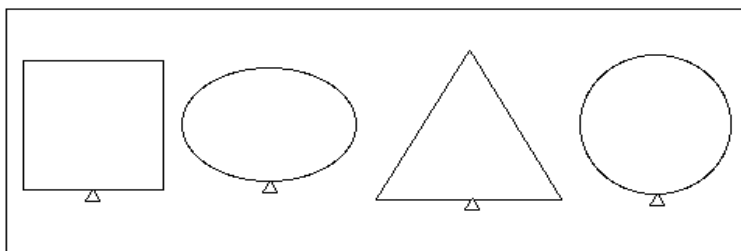
### **Completați:**

**Laturi:**

**Vârfuri:**

**Unghiuri:**

- 1) Colorați cu roșu triunghiul din imagine:



- Pentru informații suplimentare, vă rog să accesați următorul link:

[https://www.youtube.com/watch?](https://www.youtube.com/watch?v=HQFRkDUUm5g&fbclid=IwAR0sNwMeCNZofH1XAfr7GNJ1niB5hXUllW2zCB3IARhKU_TMl4IJPnxw6Lk)

[v=HQFRkDUUm5g&fbclid=IwAR0sNwMeCNZofH1XAfr7GNJ1niB5hXUllW2zCB3IARhKU\\_TMl4IJPnxw6Lk](https://www.youtube.com/watch?v=HQFRkDUUm5g&fbclid=IwAR0sNwMeCNZofH1XAfr7GNJ1niB5hXUllW2zCB3IARhKU_TMl4IJPnxw6Lk)

## **TEMĂ DE LUCRU**

Culegere Comper, pag. 107, ex. 1,2,3,4  
 pag. 109, ex. 1, 2, 3, 4  
 pag. 111, ex. 1, 2  
 pag. 112, ex. 5,6

**Vă rog să notați noțiunile noi pe caietul de matematică, de clasă!**

Școala Gimnazială „Gh. Banea” Măcin  
Clasa a III-a A  
Disciplina: Matematică distractivă (opțional)  
P.I.P. BĂDESCU JANINA  
Perioada: 12, 19, 26-03-2020 (3h)

**MATEMATICĂ DISTRACTIVĂ**  
*Exerciții și probleme distractive pentru elevi isteți*

- 1) Dacă sfertul unui număr este 2, care este triplul aceluși număr?
- 2) Însușmează jumătatea, sfertul, treimea, dublul și triplul lui 12 .
- 3)  $m = 20$  ,  $n =$  de 5 ori mai mic decât  $m$  ,  $p =$  un sfert din  $m$ .  
Calculați :
  - $2m : n = ?$
  - $5p - 2n = ?$
  - $6n + (m : 2) = ?$
- 4) Dacă aș mai avea 3 bomboane aș avea cât tine . Împreună avem 17. Câte bomboane are fiecare?
- 5) Dacă mi-ai da 2 timbre am avea la fel. Acum avem 12 timbre împreună. Câte timbre are fiecare?
- 6) În clasa noastră sunt 24 elevi . Domnul învățător a scos 2 elevi la tablă. Câți elevi au rămas în clasă?
- 7) O orchestră formată din 7 instrumentiști cântă o melodie în 5 minute. În cât timp va cânta , respectând ritmul, aceeași melodie, o orchestră alcătuită din 14 instrumentiști?
- 8) Dacă alaltăieri a fost miercuri, ce zi va fi poimâine?
- 9) Am cules mere împreună cu fratele meu, apoi le-am împărțit frățește. Eu am cules 20 de mere, iar acum am 19. Câte mere a cules fratele meu?
- 10) În clasa noastră sunt 26 de elevi, băieți și fete. 18 copii poartă pantaloni. Câte fete nu poartă pantaloni știind că în clasa noastră sunt 15 fete?
- 11) Printre numerele 2432 , 7543 , 8753 , 9543 , 6242 și 5217 există un număr care nu are proprietatea comună tuturor celorlalte.  
Elimină intrusul !
- 12) Alexandru s-a născut exact în ziua în care Alexandra a împlinit 4 ani . Ce vârstă va avea Alexandru când Alexandra va avea dublul vârstei lui ?

**Fișa poate fi rezolvată pe copia xerox sau pe caietele de opțional.**

**Spor la lucru!**

Școala Gimnazială „Gh. Banea” Măcin  
Clasa a III-a A  
Disciplina: AVAP  
P.I.P. BĂDESCU JANINA  
Perioada: 12-03-2020 (2h)

## ARTE VIZUALE ȘI ABILITĂȚI PRACTICE

Să fim creativi la școala de acasă!  
Vă propun să luăm și noi parte la Campania „Totul va fi bine!”.



✚ Desenați un curcubeu și scrieți, pentru fiecare literă inițială a culorii, câte o valoare morală, o trăsătură de caracter sau orice cuvânt de BINE.

De exemplu:

- ROȘU - RĂBDARE

✚ Puteți adăuga desenului vostru orice alte elemente doriți.

✚ Împărtășiți ideile voastre cu ceilalți colegi, adăugați lucrarea la portofoliul personal!